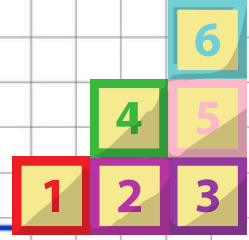


Alfabemizdeki harf sayısı 1 onluktan kaç fazladır?



Küplerdeki sayıların toplamı kaçtır?



Ceren'in elindeki işleme göre problem yazalım.




19

21

15

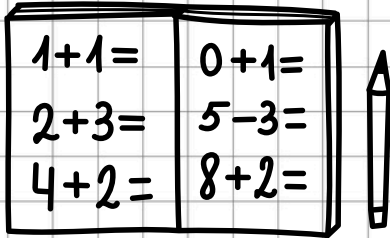
Yandaki geometrik şekillerin köşeleri toplamı kaçtır?



Görsele göre problem yazalım.



İşlemleri yapıp sonuçlarını toplayalım.



7

7

20'den başlayarak geriye doğru birer ritmik sayalım. Dördüncü saymada hangi sayıyı söyleriz. (20 dahil)

1 onluk 8 birlikten oluşan sayı kadar kalemim var. Kaç kalemim var?

Bulut, otuzdan başlayarak onar ritmik sayıyor. Bulut altıncı saymada hangi sayıyı söyler? (Otuz dahil)

18

80

17