



ONLUK - BİRLİK



4. ETKİNLİK

Aşağıdaki sayılar için doğru ifadeyi işaretleyelim.

1) 23 sayısı için:

- 2 onluk 3 birlik
 3 onluk 2 birlik
 2 birlik 3 onluk

6) 52 sayısı için:

- 5 onluk 2 birlik
 2 onluk 5 birlik
 5 birlik 2 onluk

2) 45 sayısı için:

- 4 onluk 5 birlik
 5 onluk 4 birlik
 4 birlik 5 onluk

7) 29 sayısı için:

- 2 onluk 9 birlik
 9 onluk 2 birlik
 2 birlik 9 onluk

3) 17 sayısı için:

- 1 onluk 7 birlik
 7 onluk 1 birlik
 1 birlik 7 onluk

8) 41 sayısı için:

- 4 onluk 1 birlik
 1 onluk 4 birlik
 4 birlik 1 onluk

4) 38 sayısı için:

- 3 onluk 8 birlik
 8 onluk 3 birlik
 3 birlik 8 onluk

9) 13 sayısı için:

- 1 onluk 3 birlik
 3 onluk 1 birlik
 1 birlik 3 onluk

5) 60 sayısı için:

- 6 onluk 0 birlik
 0 onluk 6 birlik
 6 birlik 0 onluk

10) 50 sayısı için:

- 5 onluk 0 birlik
 0 onluk 5 birlik
 5 birlik 0 onluk



Başarı seninle!





ONLUK - BİRLİK



5. ETKİNLİK

Aşağıdaki boşlukları uygun sayılarla dolduralım.

① _____ onluk + 5 birlik = 25

⑪ 7 onluk + _____ birlik = 75

② 4 onluk + _____ birlik = 47

⑫ _____ onluk + 4 birlik = 44

③ _____ onluk + 2 birlik = 12

⑬ 1 onluk + _____ birlik = 18

④ 3 onluk + _____ birlik = 39

⑭ _____ onluk + 0 birlik = 30

⑤ 5 onluk + _____ birlik = 58

⑮ 8 onluk + _____ birlik = 86

⑥ _____ onluk + 7 birlik = 27

⑯ _____ onluk + 6 birlik = 16

⑦ 2 onluk + _____ birlik = 26

⑰ 3 onluk + _____ birlik = 35

⑧ _____ onluk + 9 birlik = 49


⑱ _____ onluk + 3 birlik = 53

⑨ 6 onluk + _____ birlik = 63

⑲ 4 onluk + _____ birlik = 41

⑩ _____ onluk + 1 birlik = 31

⑳ _____ onluk + 8 birlik = 68




Başarılar!





ONLUK - BİRLİK



6. ETKİNLİK

Aşağıdaki modellerde onluk ve birlikleri sayalım.
Verilen örnekteki gibi tabloyu dolduralım.



= Onluk (10)



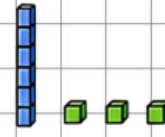
= Birlik (1)

ÖRNEK:



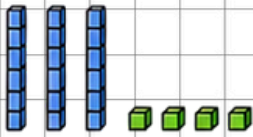
Onluk	Birlik	Sayı
2	5	25

6



Onluk	Birlik	Sayı

1



Onluk	Birlik	Sayı

7




Onluk	Birlik	Sayı

2



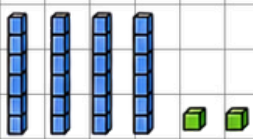
Onluk	Birlik	Sayı

8



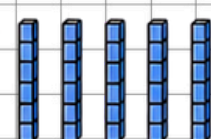
Onluk	Birlik	Sayı

3



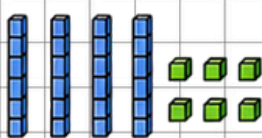
Onluk	Birlik	Sayı

9



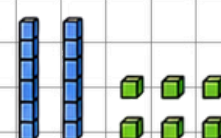
Onluk	Birlik	Sayı

4



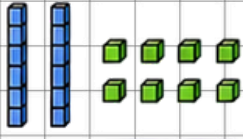
Onluk	Birlik	Sayı

10



Onluk	Birlik	Sayı

5



Matematik her yerde! ♥

