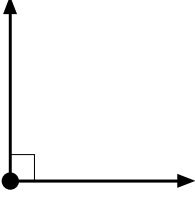


ETKİNLİK



- Dik açı = 90°




- Doğru açı = 180°

Dik açı ile doğru açının toplamı kaçtır?

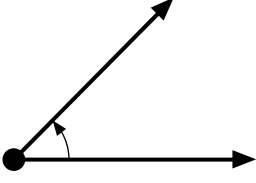
İki dik açı ile üç doğru açının toplamı kaçtır?

Doğru açı ile dik açının çarpımı kaçtır?

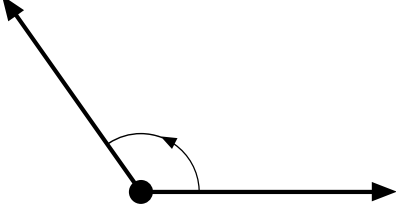
Doğru açı ile dik açının farkı hangi açıdır?



ETKİNLİK



- En büyük dar açı = 89°



- En büyük geniş açı = 179°
- En küçük geniş açı = 91°

En büyük dar açının 3 katının
175 eksiği kaçtır?

En büyük geniş açının 5 katının
874 fazlası kaçtır?

En büyük dar açı ile en küçük
geniş açının çarpımı kaçtır?

En büyük geniş açı ile en küçük
geniş açının farkının 4 katı
kaçtır?