





Bir kmeste 7 tavuk, tavuklardan 9 fazla rdek vardır. Buna gre, kmeste ka rdek vardır?




Cengiz 10, İkbal 12 kiraz topladı. İkiisi toplam ka kiraz topladı?



Duru'nun 5 kavunu var. Kıvan 8 kavun daha verdi. Duru'nun toplam ka kavunu oldu?



Utka'n'a annesi 7 ceviz, babası 4 ceviz verdi. Utka'nın toplam ka cevizi oldu?



16

11

22

13