





Öykü Hanım, pazardan 6 kg soğan, 5 kg patates ve 4 kg domates aldı. Öykü Hanım, pazardan kaç kg sebze almıştır?



Esmâ, kilogramı 15 lira olan havuçtan 4 kg aldı. Kaç lira öder?



Yarım kilogramı 6 lira olan patlıcandan 3 kg aldık. Kaç lira öderiz?




2 kilogramı 10 TL olan incirlerin, 6 kilogramı kaç liradır?

30 15 60 36



Bir markette bugün 34 kg çilek, çilekten 7 kg fazla erik satıldı. Markette toplam kaç kg meyve satıldı?



Kübra, kilosu 9 lira olan bademden 3 kg aldı. Satıcıya 30 lira verdi. Kaç lira para üstü alır?



Mete, Öykü ve Berk'in ağırlıkları toplamı 94 kilogramdır. Mete 23, Öykü 37 kilogram olduğuna göre Berk kaç kilogramdır?

Kilogramı 5 lira olan kabaktan 3 kilo, kilogramı 4 lira olan pırasadan 3 kilo alan Ömer Bey, kaç liralık daha sebze alırsa 35 lira ödemiş olur?



75 8 3 35