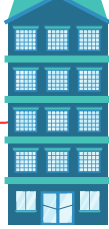





5 katlı bir apartmanın her katı 3 m yüksekindedir. Apartmanın çatısı 2 metre olduğuna göre bu apartmanın yüksekliği kaç metredir?



Esra'nın evi ile okulun arası 14 metredir. Esra evden çıkıp 6 metre yürüdüktan sonra çantasını almayı unuttuğunu fark edip eve geri dönüyor. Tekrar okula gidip eve dönen Esra, toplam kaç metre yürümüştür?



Uzunluğu 12 metre olan bir yüzme havuzunda 3 tur gidip gelen Yağız, toplam kaç metre yüzmüştür?



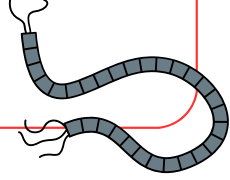
Özlem birinci gün 84 metre yürümüştür. Her geçen gün bir öncekinden 9 metre daha az yürüdüğüne göre Özlem 3. gün kaç metre yürümüştür?



17 66 40 72



9 cm uzunluğundaki dört kablo uç uca eklendiğinde kaç cm kablo elde edilir?



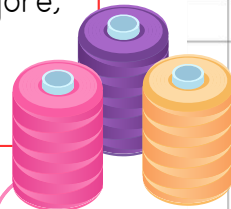
Canların evi 5 metre, bahçedeki ağaç ise 1 metredir. Canların bahçesindeki ağaç her yıl 1 metre uzamaktadır. Bu ağaç, kaç yıl sonra Canların evi ile aynı boyda olur?



Bir çekirgenin bir sıçrayışı 3 metredir. Çekirge yarım saatte 6 sıçrayış yaptığına göre 2 saat sonunda kaç metre sıçramış olur?



Teyzem 6 makara ip aldı. Her bir makarada 15 metre ip vardır. Makaraların birinden 9 metre, diğerinden 12 metre kullandığına göre, teyzemin kaç metre ipi kalmıştır?



36 69 72 4