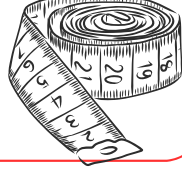





37 santimetrenin 1 metre olabilmesi için kaç santimetreye ihtiyaç vardır?



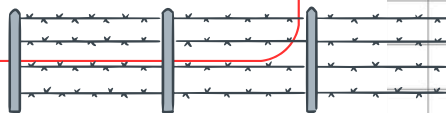
Aralarında dörder santimetre olan üç ipten en kısa olanı 25 santimetredir. Bu üç ip uca eklendiğinde kaç santimetre olur?



Dikildiğinde 17 santimetre olan ağaç, her ay 8 cm uzadığına göre, bir yılın sonunda ağacın boyu kaç cm olur?



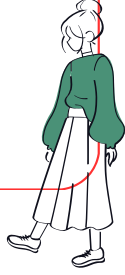
Bir tel, her biri üçer metrelik 9 parçaya ayrılınca geriye 2 metrelik bir parça kalıyor. Bu ipin parçalara ayrılmadan önceki uzunluğu kaç metredir?





Ceren'in boyu bir metreden 8 santimetre fazladır. Canberk'in boyu ise bir metreden 17 santimetre kısadır. Buna göre, Canberk Ceren'den kaç santimetre kısadır?

Buse'nin bir adımı çeyrek metre kadardır. Buse'nin 3 adımı kaç santimetredir?



Bir tavşan 30 metrelik yolun önce 8 metresini sonra 11 metresini gidiyor. Daha sonra 7 metre geri dönüyor. Gitmesi gereken yol kaç metredir?



Annem 24 metre kumaşın çeyreği ile pijama dikti. Annemin geriye kaç metre kumaşı kalmıştır?



12 191 18 75