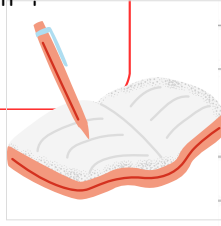




Alya'ya annesi 9 tane 5 lira, babası 2 tane 10 lira, dedesi 6 tane 1 lira verdi. Alya'nın toplam kaç lirası oldu?



Cemre, annesinin verdiği 50 liranın, 20 lirası ile kitap, 15 lirası ile kalem aldı. Buna göre, Cemre'nin kaç lirası kalmıştır?



Alp'in 90 lirası vardı. Parasının 35 lirasını harcadı. Dedesi Alp'e 24 lira harçlık verdi. Alp'in kaç lirası oldu?




Tanesi 3 lira olan çikolatalardan 18 tane, tanesi 4 lira olan bisküvilerden 12 tane aldım. Ödediğim para kaç liradır?



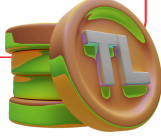
89 15 71 102



Bir kilogramı 18 lira olan taze fındıklardan 4 kg alıp satıcıya 90 lira verirsek para üstü ne kadar alırız?




60 liramın 23 lirasını harcadım. 19 lirasını ablama verdim. Kalan paramın yarısını kumbarama attım. Kumbarama attığım para kaç liradır?



Kumbaramda 43 liram var. Günde 7 TL olmak üzere beş gün boyunca kumbarama para attım. Kumbaramda kaç liram oldu?



Paramın yarısını harcayarak, tanesi 8 lira olan toplardan 5 tane aldım. Harcamadan önceki param kaç liradır?



9 80 78 18