




Saat 14.30'da sinemaya giren Alperen'in izleyeceği film üç saat sürdü. Buna göre, Alperen sinemadan saat kaçta çıkmıştır?



Haftanın her günü 2 saat ders çalışan Burcu, 4 haftada kaç saat ders çalışır?



Mina her gün 1 saat, Ediz ise haftada 6 saat ders çalışıyor. Mina ile Ediz iki haftada toplam kaç saat ders çalışır?



Yağız okula yürüyerek gidiyor. Ev ve okul arası bir saat sürmektedir. Evden 08.30'da çıkan Yağız, saat kaçta okulda olur?



17.30

26

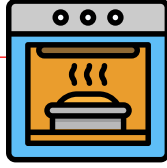
56

9.30



Hastalandığı için okula gide-  
meyen Mete, 4 gün 7 saat  
sonra okula gitti. Mete, kaç  
saat sonra okula gitti?

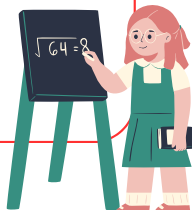
Annem saat 13.00'te hazırladığı  
ekmek hamurunu fırına koydu.  
Ekmek 45 dakikada piştiğine  
göre, annem ekmeği saat kaçta  
fırından çıkarmıştır?



Mina, bir saatte 30 sayfa kitap  
okuyor. Mina, 60 sayfalık kitabı  
15.00'te okumaya başlarsa saat  
kaçta bitirir?



Her gün 7 saatini okulda ge-  
çiren Ece, iki haftada kaç  
saatini okulda geçirmiş olur?



70

13.45

103

17.00