




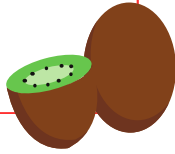
Yarısı 23 olan sayının 35 fazlası kaçtır?




Yarısı 20 olan sayının 17 eksiği kaçtır?



Yarısı 9 olan sayının 8 eksiğinin 3 katı kaçtır?




Yarısı 7 olan sayının 5 fazlasının 4 katı kaçtır?



81 30 23 76



Çeyreği 12 olan sayının 36 fazlası kaçtır?



Çeyreği 16 olan sayının 28 eksiği kaçtır?



Çeyreği 7 olan sayının 13 eksiğinin 2 katı kaçtır?



Çeyreği 3 olan sayının 4 fazlasının 5 katı kaçtır?

36 30 84 80