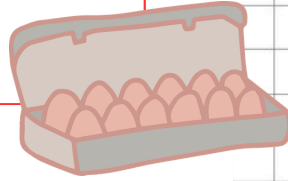





Bir bölme işleminde; bölen 2, bölüm 9 ise bölünen kaçtır?

Bir bölme işleminde; bölen 4, bölüm 7 ise bölünen kaçtır?

Bir kutuda 25 yumurta vardır. Yumurtaların 7 tanesi taşırken kırılıyor. Kalan yumurtalar 3 tabağa paylaştırılıyor. Her bir tabakta kaç yumurta olur?



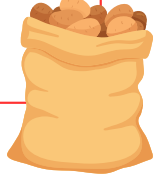
Bir sütçü 60 litre sütün 25 litresini sattı. Kalan sütü 5 şişeye eşit olarak paylaştırdı. Her şişe kaç litre süt alır?



6 7 18 28



Bir manav 61 kilogram patatesin 25 kilogramını sattı. Geriye kalan patatesleri 4 kilogramlık çuvallara koydu. Kaç çuval patates oldu?



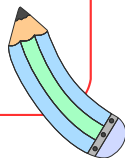
Kitaplıktaki 32 kitabın çeyreğini okudum. Geriye okumam için kaç kitap kaldı?



Keloğlan 32 balonu, kendisiyle beraber üç arkadaşına dağıtıyor. Her birine kaç balon düşer?



Burak, kırtasiyeden aldığı 3 kalem için 24 lira ödedi. Burak, 10 kalem alsaydı kaç lira öderdi?



80 24 9 8