



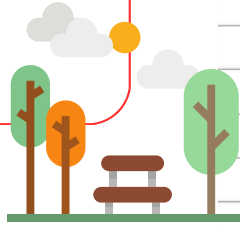
Günde 4 litre su tüketen bir aile, iki haftada kaç litre su tüketir?




Sınıfımızda 9 sırada 2'şer öğrenci, 6 sırada 3'er öğrenci oturuyor. Sınıfımızda kaç öğrenci vardır?



Bir parktaki 12 banka oturmak isteyen çocuklar, üçerli oturunca 7 çocuk ayakta kalıyor. Parkta kaç çocuk vardır?




Ağaçta 9 sayısının 5 katı kadar yaprak vardı. Yapraklardan 17 tanesi döküldü. Ağaçta geriye kaç yaprak kaldı?



56 43 28 36



Babam, bir paketi 4 lira olan makarnadan 8 paket aldı. Satıcıya 50 lira verdiği göre kaç lira para üstü almalıdır?

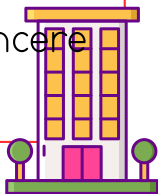


Ben 9 yaşındayım. Teyzemin yaşı, benim yaşımın 5 katı kadardır. İkimizin yaşları toplamı kaçtır?

Bir sepette 6 tane elma vardır. Elmaların 3 katı kadar armut, 4 katı kadar portakal vardır. Sepette toplam kaç meyve vardır?



Bir apartmanda 7 kat vardır. Her katta 3 daire, her daire 4 pencere vardır. Buna göre, bu apartmanda kaç pencere vardır?



84 54 48 18