



Eksilen sayı: 9 onluk 8 birlik


Çıkan sayı: 2 onluk 4 birlik

Yukarıda verilenlere göre fark kaçtır?


Yağız'ın 85 bilyesi var. Yağız, oyun oynarken birkaçını kaybetti. Geriye 42 bilyesi kaldı. Yağız bilyelerinin kaç tanesini kaybetti?



Çoban Ediz'in 36 koyunu var. Koyunların 1 onluk 7 birlik kadarını sattı. Çoban Ediz'in geriye kaç koyunu kaldı?



Elimdeki çiçeklere 19 çiçek daha eklersem 4 onluk çiçeğim oluyor. Buna göre, başlangıçta elimde kaç çiçek vardı?



74 21 43 19




Okul kantinine gelen 82 kutu sütten 56 tanesi satıldı. Geriye kaç kutu süt kaldı?




Dedemin yaşı 7 onluğa yuvarlanan en büyük sayı kadardır. Dedem 8 yıl önce kaç yaşındaydı?

Ceren'in 16 kurabiyesi vardı. Annesinin verdiği kurabiyelerle 39 kurabiyesi oldu. Annesi Ceren'e kaç kurabiye verdi?



Kitaplığımda 38 kitap vardır. Kaç kitap daha alırsak kitaplığımdeki kitaplar 8 onluğa eşit olur?



26 66 23 42