



Kerem'in 28 topu vardır. Bilge 19 top vermiştir. Defne ise 11 top vermiştir. Kerem'in kaç topu olmuştur?




Efe salı günü 17, cuma günü 25, pazar günü 34 tane problem çözmüştür. Efe üç günde toplam kaç tane problem çözmüştür?

Kirtasiyeci, cumartesi günü 25 tane kitap sattı. Pazar günü sattığı kitap sayısı ise cumartesi günü sattığından 9 fazladır. Kirtasiyeci iki günde toplam kaç kitap sattı?




Can 1. gün 29 balık, 2. gün 24 balık, 3. gün 17 balık tuttu. Can üç günde toplam kaç balık tuttu?



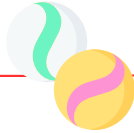
58 70 59 76



Bir çiçekçi Öğretmenler Günü'nde 24 tane lale, lalelerden 17 fazla gül satmıştır. Bu çiçekçi toplam kaç çiçek satmıştır?



Minâ'nın 17, Metin'in 23 ve Aras'ın 16 misket vardır. Buna göre üçünün misket sayıları toplamı kaçtır?



Ela kitabından birinci gün 26, ikinci gün birinci günden 8 sayfa fazla kitap okudu. İki günde toplam kaç sayfa kitap okudu?



Tülin Hanım, fiyatları 28 TL, 24 TL ve 35 TL olan üç tişört aldı. Tülin Hanım, kasa-ya toplam kaç TL öder?



87 65 60 56