




Boş bir sürahiye 12 bardak su konulunca 5 bardak su taşıyor. Buna göre, iki sürahi su kaç bardağı doldurur?



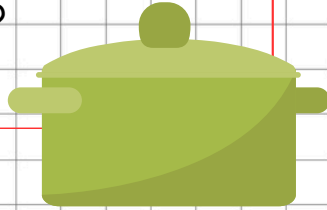
Çözüm:

Bir tencere 5 kepçe ile dolar. Bir kepçe 4 kaşık ile dolar. Buna göre, bir tencere kaç kaşık ile dolar?



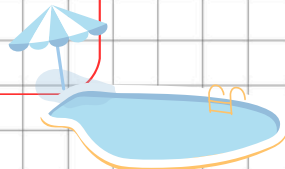
Çözüm:

Bir tencere, 4 bardak su ile dolmaktadır. Aynı büyüklükteki 9 tencereyi doldurmak için kaç bardak su gerekir?



Çözüm:

Bir havuz 8 damacana ile dolar. Bir damacana 4 kova ile dolar. Buna göre, bir havuz kaç kova ile dolar?



Çözüm:

36 14 32 20



Annemin demlediği 1 demlik çaydan 17 bardak çay çıkıyor. Annem bir günde 3 demlik çay demlerse bir günde kaç bardak çay çıkar?



Çözüm:

Günde 15 litre süt veren inek, 4 günde kaç litre süt verir?

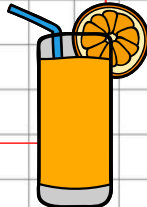


Çözüm:

Boş bir sürahiye 15 bardak su konulunca 6 bardak su taşıyor. Buna göre, üç sürahi kaç bardağı doldurur?

Çözüm:

5 portakaldan bir bardak meyve suyu çıkar. 7 bardak meyve suyu için kaç portakal gerekir?



Çözüm:

27 35 51 60