


Adım: \_\_\_\_\_

## Sıvı Ölçme -1-




Bir sürahi, 4 bardak su ile doluyor. Buna göre, 3 sürahi kaç bardak su ile dolar?



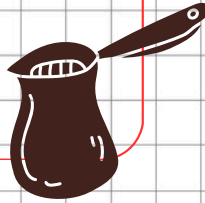
Çözüm:

Bir havuz, 8 bidon su ile doluyor. Buna göre, 3 havuz kaç bidon su ile dolar?



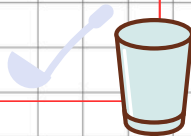
Çözüm:

Bir kova, 10 cezve su ile doluyor. Buna göre, 5 kova kaç cezve ile dolar?



Çözüm:

Bir bardak, 3 kepçe su ile doluyor. Buna göre, 7 bardak kaç kepçe su ile dolar?



Çözüm:

24 21 12 50



Bir paket süt ile 6 çay bardağı süt ile doluyor. 3 paket süt ile kaç çay bardağı süt dolar?



Çözüm:

Bir damacana su ile 7 şişe doluyor. 4 damacana su ile kaç şişe dolar?

Çözüm:

Bir şişeden 6 bardak yağ çıkıyor. 5 şişeden kaç bardak yağ çıkar?

Çözüm:



Bir çaydanlık 7 bardak çay alıyor. 2 çaydanlıkta kaç bardak çay olur?

Çözüm:



30 18 14 28